

Adı:.....
Soyadı:.....

FEN BİLİMLERİ

3



KAZANIM DEĞERLENDİRME SINAVI-1

Güneş



Havai Fişek



Ateş



1

Yukarıda sembollerle eşleşen görsellerin ışık kaynağı çeşitleri hangi seçenekte doğru olarak verilmiştir?



- A) doğal
B) yapay
C) yapay

- yapay
doğal
doğal

- yapay
doğal
yapay

2

Aşağıdakilerden hangisi duyu organlarımızın sağlığı için olumlu bir davranıştır?

- A) Kişisel temizliğimize özen göstermemek
B) Uzun süre bilgisayar karşısında oturmak
C) Yakından televizyon izlememek

3

Aşağıda gerçekleşen olaylarla, bu olaylara uygulanan kuvvet şekillerinden hangisi yanlıştır?


- A) Topa vurma – itme
B) Zile basma – itme
C) Çekmeceyi kapatma – çekme

4

Emre gözü kapalı şekilde nesnelere tanıma oyunu oynuyor. Eline aldığı nesnelere dokununca maddenin esnediğini fark ediyor.

Buna göre Emre aşağıdaki maddelerden hangisine dokunmuş olamaz?

- A) Sünger B) Pamuk C) Tahta



Annemin yaptığı keki buz gibi limonata ile birlikte yedim.

5

Sude'nin açıklamasında maddenin hangi haline örnek yoktur?

- A) Katı B) Sıvı C) Gaz



Sinem Gül Bera Oya Cenk

6

Yukarıdaki çocuklardan hangisi müziğin sesini daha az şiddetli duyar?

- A) Sinem B) Bera C) Cenk




7

Aşağıdakilerden hangisi cansız varlıklara örnektir?

- A) Toprak B) Kurbağa C) Sümbül

8

Aşağıdakilerden hangisi doğal ses kaynağına örnek gösterilebilir?

- A)  Gitar B)  Şelale C)  Televizyon

9

- I- Doğal gaz II- Su III- Elektrik

Yukarıda verilen enerji kaynaklarından hangilerinden tasarruf edilebilir?

- A) I ve II
B) II ve III
C) I,II ve III

10

Sağlam kafa sağlam vücutta bulunur.

Yukarıda verilen atasözünün açıklaması aşağıdakilerden hangisidir?

- A) Dengeli ve düzenli beslenerek spor yapmak insanın daha sağlıklı düşünmesini sağlar.
B) Sağlam kafaya sahip olabilmek için derslerimize çok çalışmalıyız.
C) Her gün çok et yersek çok sağlıklı oluruz.