

VERİ, TABLO, NESNE VE ŞEKİL GRAFİĞİ

Halit 4 meyve belirledi. Sınıf arkadaşlarına bu meyvelerden en çok hangisini sevdiğini sordu. 6 öğrenci çileği, 8 öğrenci narı, 2 öğrenci muz, 5 öğrenci de kirazı çok sevdiğini söyledi.

Sevilen Meyveler

Çilek	
Nar	
Muz	
Kiraz	





Çetele Tablosu

Sevilen Meyveler

Çilek	6
Nar	8
Muz	2
Kiraz	5





Sıklık Tablosu

Sevilen Meyveler Nesne Grafığı

Çilek	
Nar	
Muz	
Kiraz	

Her nesne bir öğrenciyi gösteriyor.

Sevilen Meyveler Şekil Grafığı

Çilek	
Nar	
Muz	
Kiraz	

Her şekil bir öğrenciyi gösteriyor.

- ❖ Sınıfta en çok sevilen meyve **nar**dır.
- ❖ Sınıfta en az sevilen meyve **muz**dur.
- ❖ Sınıf mevcudu **21**'dir.
- ❖ En çok ve en az sevilen meyveler arasındaki fark $8 - 2 = 6$ 'dır.
- ❖ Çilek, nar ve muz meyvelerini seven öğrencilerin sayısı **çift sayı**dır.
- ❖ Kiraz meyvesini seven öğrencilerin sayısı **tek sayı**dır.
- ❖ **Çilek ve muz** meyvelerini seven öğrenci sayısı **nar** meyvesini seven öğrenci sayısına **eşittir**.