


Adı: .....

Soyadı: .....

DOĞAL SAYILAR TEST3


1.



84 sayısındaki rakamların sayı değerleri toplamı 15'tir



32 sayısındaki rakamların sayı değerleri toplamı 5'tir



47 sayısındaki rakamların sayı değerleri toplamı 11'tir




Hangi hayvanın söylediği **yanlıştır**?

A) Horuz

B) Aslan

C) Koyun

2. İki basamaklı en büyük doğal sayıdan sonra hangi sayı gelir?




3. 66,87,13,45 sayılarını büyükten küçüğe doğru sıralanışı aşağıdakilerden hangisidir?

A) 66,13,45,87

B) 87,66,45,13

C) 87,45,66,13

58 büyüktür.....



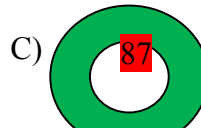
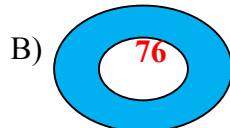
4. Sevimli kahramanımızın ifadesinde boş bırakılan yere aşağıdakilerden hangisi **gelmelidir**?

A) 78

B) 55

C) 57

5. Aşağıdakilerden hangisinde onluk sayısı daha çoktur?



6. Buket'in 16 tane kalemi vardır. Buket'in kalemleri bir düzineden kaç fazladır?

A) 5

B) 4

C) 3



3 tane daha yavrum olsaydı, 2 deste yavrum olacaktı.

7. Yukarıdaki bilgiye göre ördeğin kaç tane yavrusu vardır?


A) 12

B) 15

C) 17

8.

66 sayısından bir onluk çıkaracağım



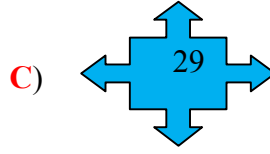

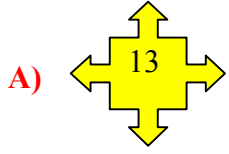
Ali yapacağı işleminin sonucunu kaç bulmalıdır?

A) 56

B) 46

C) 65

9. Aşağıdakilerden hangisi çift sayıdır?



10. Aşağıdakilerden hangisi yanlış çözümlenmiştir?

A)  $8 + 3 \text{ birlik} = 83$

B)  $9 \text{ onluk} + 4 \text{ birlik} = 94$

C)  $4 \text{ onluk} + 5 \text{ birlik} = 54$



11. Sevimli kahramanımızın 26 misketi vardır. Kahramanımızın misketleri iki düzine misketten kaç fazladır?



12

Kahramanımızın hangi tuttuğu sayı tek sayıdır?

A) 33

B) 44

C) 12

Hamit TENDİK