




Adı Soyadı :

Numarası :

Konu: 5.Ünite Değerlendirmesi (Kesirler, Zamanı Ölçme ve Paralarımız)

Aşağıdaki soruları dikkatlice okuyalım ve cevaplayalım.



1) Yukarıdaki limonlardan kaç çeyrek limon elde edilir?

- A) 6 B) 4 C) 2

2) Yandaki saatin okunuşu aşağıdakilerden hangisidir?

- A) Bir buçuk
B) Biri çeyrek geçiyor
C) Bire çeyrek var



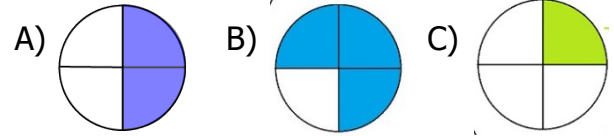
23 TL



35 TL

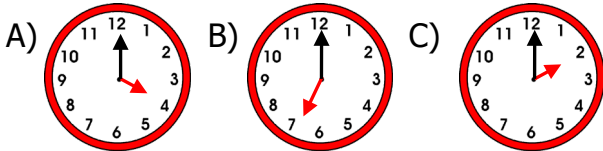
3) 50 TL param var yukarıdaki ürünleri alabilmek için kaç TL paraya ihtiyacım var?
Çözüm:

4) Aşağıdaki şekillerden hangisinin çeyreği boyanmıştır?



Saat: On altı

5) Aşağıdaki saatlerden hangisi yazılan saati göstermektedir?



6) 2 tane 20 liram, 2 tane 10 liram ve 1 tane 5 liram var. 40 liralık şapkayı alırsam geriye kaç liram kalır?

Çözüm:



7) Aşağıdaki ifadelerden hangisi yanlıştır?

- A) Bir yıl 12 aydır.
B) Bir hafta 7 gündür.
C) Bir mevsimde 4 ay vardır.

8) 6 yarık ekmek elde etmek için kaç tane ekmeğe ihtiyaç duyarız?

- A) 3
B) 4
C) 5



