



Adı Soyadı :

Numarası :

Konu: 5.Ünite Değerlendirmesi (Kesirler, Zamanı Ölçme ve Paralarımız)

Aşağıdaki soruları dikkatlice okuyalım ve cevaplayalım.

1) Aşağıdaki nesnelerin hangisi çeyrektir?

A)



B)



C)



2) Aşağıdaki saatlerden hangisi öğleden sonra 2'yi gösteriyor?

A)

15 : 00

B)

17 : 00

C)

14 : 00



3) Yukarıda toplam ne kadar para vardır?


A) 17 TL

B) 18 TL

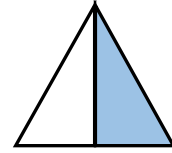
C) 19 TL

4) Aşağıdaki şekillerden hangisinin yarısı boyanmıştır?

A)



B)



C)

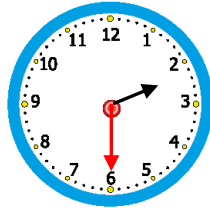


5) Yandaki saat kaç gösteriyor?

A) 01 : 30

B) 02 : 00

C) 02 : 30



6) 3 ekmekten kaç tane yarım ekmek elde edilir?

A) 6

B) 4

C) 8



7) Yukarıdaki pastalardan kaç tane çeyrek pasta çıkar?

A) 4

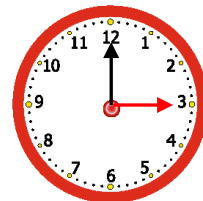
B) 6

C) 8

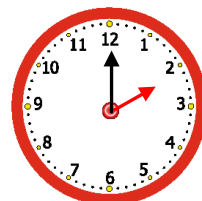


8) Aşağıdaki saatlerden hangisi 15: 00'ı gösteriyor?

A)



B)



C)



9) Hasan'ın kumbarasından 2 tane 10 TL, 2 tane 5 TL, 4 tane 1 TL çıktı. Çıkan paraların toplamı kaç TL'dir?

Çözüm:



10) Yukarıdaki bütün elmalar kaç yarım elma eder?

- A) 14 B) 16 C) 12

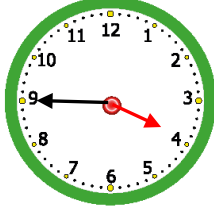

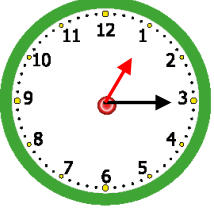
11) Yandaki dijital saatle aynı zamanı gösteren saat hangisidir?

13 : 15

A)

B)

C)

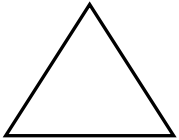


12)) Annem, tanesi 5 TL olan tabaklardan 4 tane alıyor. Annem aldığı tabaklar için kaç TL ödemiştir?

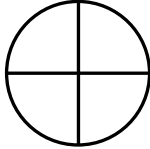
Çözüm:



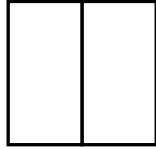
13) Aşağıda verilen şekillerin ifade edilen kısımlarını boyayınız?



Bütün



Çeyrek



Tam

16 : 00

14) Yukarıdaki saat, hangi zaman dilimini gösterir?

- A) Öğleden önce dört
B) Öğleden önce beş
C) Öğleden sonra dört

15) Özge, fiyatı 95 TL olan saati almak için harçlıklarını biriktirmektedir. Kumbarasında 38 TL biriktirdiğine göre bu saati almak için kaç TL daha biriktirmelidir?

Çözüm:

16) Babam iş için Rize'ye gitti. Rize'de 3 hafta kaldı. Buna göre babam Rize'de kaç gün kaldı?

Çözüm :