



Adı Soyadı :

Numarası :

Konu: 3.Ünite Değerlendirmesi (Geometrik cisimler ve şekiller, Uzamsal İlişkiler, Geometrik Örüntüler)

Aşağıdaki soruları dikkatlice okuyalım ve cevaplayalım.

1) Aşağıdakilerden hangisi silindire örnek olabilir?


A)



B)



C)

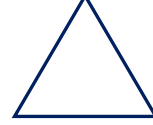


2) Aşağıdaki geometrik şekillerden hangisinin köşe sayısı en azdır?


A)



B)

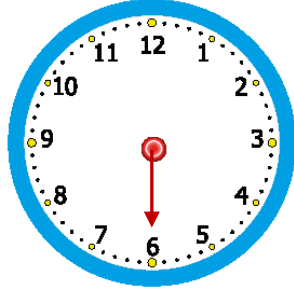


C)



3) Aşağıdaki saat üzerinde verilen ok işareti saat yönünde yarım dönüş yaparsa hangi sayıyı gösterir?

- A) 9
B) 12
C) 3



4) Aşağıdaki şekillerden hangisi iki eş parçaya ayrılabilir?

A)



B)



C)



☆ ○ ▲ □ ☆ ○ □

5) Yukarıdaki örüntüde "" yerine hangi şekil gelmelidir?

A)



B)



C)



6) Aşağıdaki görsellerden hangisi üçgen prizmaya örnektir?

A)



B)




C)

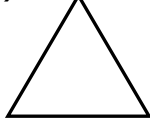


7) Aşağıdaki geometrik şekillerden hangisinin kenarı ve köşesi yoktur?

A)



B)




C)

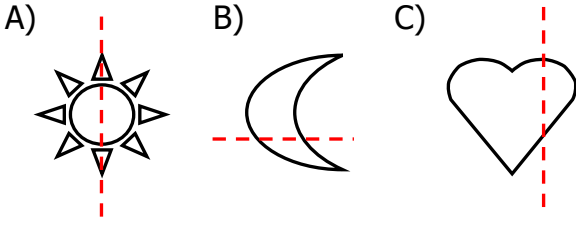


8) Sincap sağa doğru tam dönüş yaptığında hangi nesneyi görür?


- A) Ceviz
B) Fındık
C) Fıstık



9) Aşağıdakilerden hangisi iki eş parçaya ayrılmıştır?



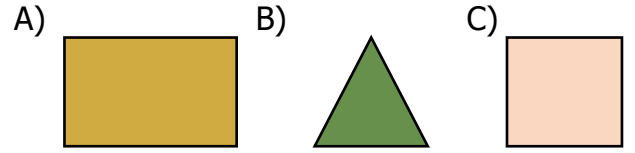
10) Aşağıdakilerden hangisi örüntü oluşturmaz?



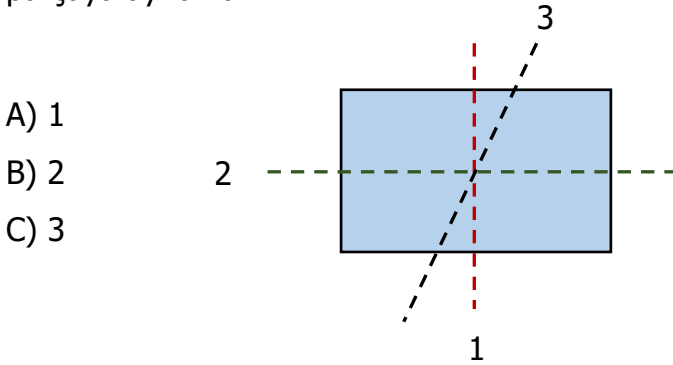
11) Aşağıdakilerden hangisi benzediği geometrik cisimle yanlış eşleştirilmiştir?



12) Aşağıdaki geometrik şekillerden, 4 köşesi, 4 kenarı bulunan ve aynı zamanda bütün kenar uzunlukları aynı olan geometrik şekil hangisidir?



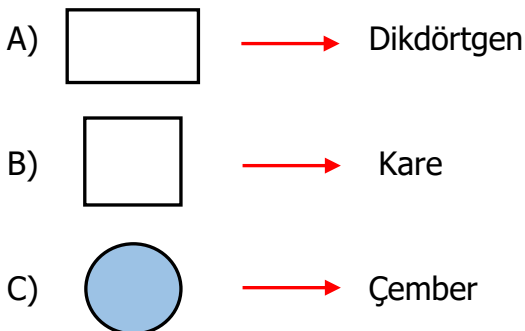
13) Kaç numaralı çizgi, dikdörtgeni iki eş parçaya ayıramaz?



14) Hangi cismin görseli yukarıda yoktur?

A) Silindir B) Üçgen prizma C) Kare prizma

15) Aşağıdaki eşleştirmelerden hangisi yanlıştır?



16) Yandaki şeklin diğer yarısı aşağıdakilerden hangisidir?

