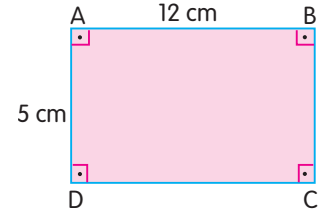
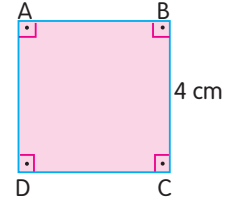


1. Yandaki ABCD dikdörtgeninin alanı kaç santimetre karedir?

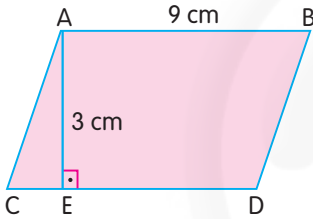


2. Uzun kenar uzunluğu 60 m olan dikdörtgen şeklindeki bir okul bahçesinin alanı  $1800 \text{ m}^2$  olduğuna göre bahçenin kısa kenar uzunluğu kaç metredir?

3. Yandaki karesel bölgenin alanı kaç santimetre karedir?



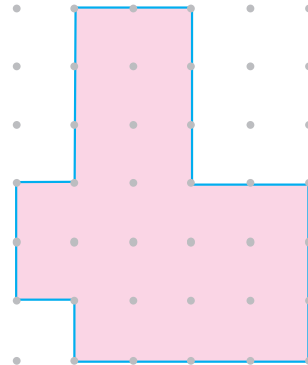
4.



Yukarıdaki paralelkenarsal bölgenin alanı kaç santimetre karedir?

5. Alanı  $84 \text{ cm}^2$  olan bir paralelkenarın taban kenarının uzunluğu 7 cm olduğuna göre taban kenarına ait yüksekliği kaç santimetredir?

6. Yandaki boyalı bölgenin alanı kaç birim karedir?



7. Eni boyunun 2 katı olan dikdörtgen şeklindeki bahçenin etrafına 3 sıra tel çekildiğinde 360 m tel kullanılıyor. Buna göre bu bahçenin alanı kaç metre karedir?