

SARIABAT LKÖ RET M OKULU 5 - A SINIFI 1. DÖNEM MATEMATİK DERS 3. YAZILI SORULARI

ADI-SOYADI:..... NUMARASI:.....

1 - A a 2da okunu lar2 verilen kesir say2lar2n2 yaz2nz.

alt2 bölü sekiz =.....

be tam alt2 bölü sekiz =

dokuzda yedi =.....

iki tam onda dört =

2 - A a 2da verilen uzunluk çevrimlerini yap2nz.

20 km =..... m

9 mm =..... cm

30 cm =..... m

150 m =..... km

3 - A a 2da verilen tamsay2 kesirleri , bile ik kesre çeviriniz.

$$8\frac{3}{7} =$$

$$2\frac{6}{8} =$$

$$6\frac{7}{9} =$$

$$4\frac{1}{5} =$$

4 - A a 2da verilen bile ik kesirleri , tamsay2 kesre çeviriniz.

$$\frac{14}{3} =$$

$$\frac{25}{15} =$$

$$\frac{19}{6} =$$

$$\frac{30}{7} =$$

5 - A a 2da verilen örüntülerde bo b2rak2lan yere hangi say2lar2n gelece ini bularak yaz2nz.

4 . 16 - 8 . 32 64 - 32 -

3 - 4 - 7 - 12 - - 28 - 39 -

6 - A a 2da verilen ondal2k kesirleri i aret kullanarak büyükten küçü e do ru sıralay2nz.

1,071 1,073--1,371 0,1371 13,70

7- A a 2daki kesirleri sadele tiriniz.

a. $\frac{6}{8} =$

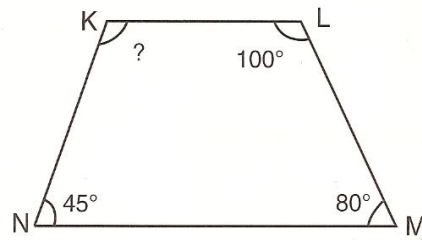
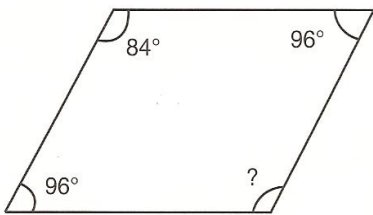
b. $\frac{5}{15} =$

8 - A a 2daki kesirlere denk birer kesir yaz2n ?


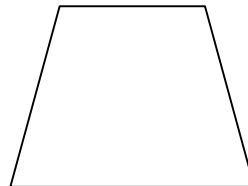
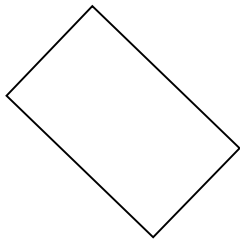
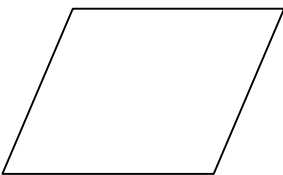
a. $\frac{24}{40} =$

b. $\frac{9}{36} =$

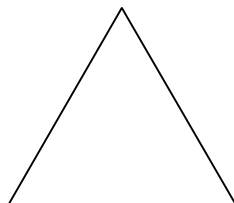

9 - A a 2daki çokgenlerin verilmeyen aç2lar2n ölçülerini bulunuz.



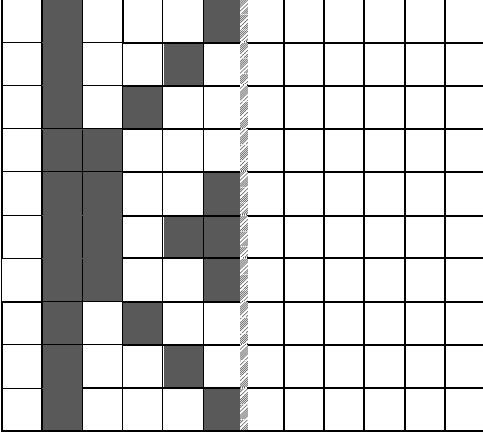
10 - A a 2daki geometrik ekillerin adlar2n yaz2p kö egenlerini çiziniz.



11 - A a 2daki ekillerin yüksekliklerini çiziniz.



12 - A a 2da verilen eklin simetri do rusuna göre simetri ini çiziniz.



13 Ė 600 TL fiyatı olan bir koltuk %20 indirimle satılıyor.Bu koltuğun indirimli fiyatını bulunuz.

14 Ė 250 liraya alınan bir ürün %10 kar ile satılırsa satış fiyatı kaç TL olur ?

15 - Ankara'dan saat 10:30'da hareket eden bir tren saat 13:15'de Afyon'a varıyor.Yolculuk kaç saat sürmü tür?

16 - A a 2daki işlemleri yapınız ?

$$A - \frac{1}{3} \times \frac{2}{5} =$$

$$B - \frac{8}{18} \times \frac{5}{10} =$$

17 Ė Emin her gün ev ile okul arasında dört defa gidip geliyor.Ev ile okul arasındaki mesafe 150m olduğuna göre Emin 5 günde kaç km yol yürümü olur?

18 - $\frac{a}{9}$ kesrinin basit kesir olması için a yerine yazılabilecek sayıların toplamı kaçtır ?

19 Ė Mehmet'in futbol turnuvasında oynadığı 6 maçta attığı goller sırasıyla şöyledir: 8--4. 7--9. 1. 4. Yukarıdaki verileri kullanarak bir tablo ve çizgi grafiği çiziniz.