

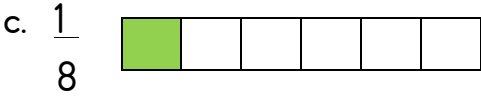
KESİRLER KONU TESTİ-1



1. Yukarıdaki kesir modelinin okunuşu nasıldır?

- a. altıda bir
- b. yedide bir
- c. sekizde bir

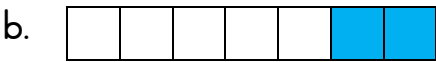
2. Aşağıdaki modellerin altına kesir sayıları yazılmıştır. Hangisi yanlıştır?



3. Dörte bir kesri aşağıdaki seçeneklerden hangisinde doğru yazılmıştır?

- a. $\frac{1}{4}$
- b. $\frac{4}{1}$
- c. $\frac{3}{4}$

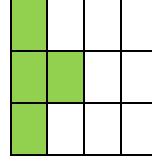
4. Aşağıdaki şekillerden $\frac{4}{7}$ 'ü gösteren boyalı şekil hangisidir?



5. $\frac{1}{7}$ kesrinin okunuşu aşağıdakilerden hangisidir?

- a. Onyed bölü bir
- b. Birde on yedi
- c. Bir bölü on yedi

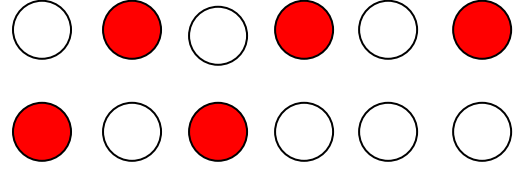
6.



Yukarıdaki şeklin boyalı kısmını gösteren kesir aşağıdakilerden hangisidir?

- a. $\frac{4}{7}$
- b. $\frac{4}{12}$
- c. $\frac{6}{5}$


7.



Yukarıdaki çokluğun boyalı kısmını gösteren kesir hangisidir?

- a. $\frac{5}{7}$
- b. $\frac{3}{12}$
- c. $\frac{5}{12}$

8.



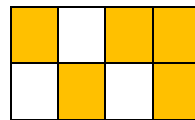
Yukarıdaki çoklukta narları, hangi kesir ile gösteririz?

- a. $\frac{4}{6}$
- b. $\frac{4}{10}$
- c. $\frac{6}{4}$

9. $\frac{2}{5}$ kesrinin okunuşu aşağıdakilerden hangisidir?

- a. İki beş
- b. Beşte iki
- c. Beşte beş

10.



Yukarıdaki şeklin taralı kısmını ifade eden kesir hangisidir?

- a. $\frac{5}{8}$
- b. $\frac{8}{5}$
- c. $\frac{5}{9}$