




ADI SOYADI	11.2011
3.SINIF	GRAFİKLER-SIKLIK VE ÇETELE TABLOSU	MATEMATİK

 Aşağıdaki boş yerleri grafiğe göre tamamlayınız.

Bando çalanlar grubu	
İzci grubu	
Halk oyunları grubu	

Not: Her şekil 4 öğrenciyi göstermektedir.

- Bando grubuna giden öğrencilerin sayısı
- İzci grubuna giden öğrencilerin sayısı
- Halk oyunları grubuna giden öğrencilerin sayısı.....
- Bu gruplardaki toplam öğrenci sayısı.....

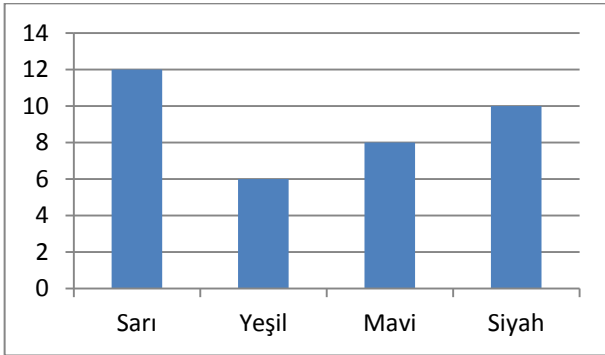
 Yukarıdaki grafiğin sıklık tablosunu ve çetele tablosunu yapınız.

SIKLIK TABLOSU	
GRUPLAR	ÖĞRENCİ SAYISI
Bando	
İzci	
Halk oyunu	

ÇETELE TABLOSU	
GRUPLAR	ÖĞRENCİ SAYISI
Bando	
İzci	
Halk oyunu	



Sınıfta Sevilen Renkler Grafiği



Yukarıda verilen grafiğin sıklık tablosunu yapınız

SIKLIK TABLOSU	
Renkler	Öğrenci Sayısı
Sarı	
Yeşil	
Mavi	
Siyah	

Esra, beş günlüğüne tatile gitti. Tatilde günlük okuduğu kitap sayfaları aşağıdaki gibidir. Verilere göre aşağıdaki çetele tablosunu örneği inceleyip tamamlayınız.

Pazartesi 14

Salı 15

Çarşamba 11

Perşembe 20

Cuma 8

ÇETELE TABLOSU	
GÜNLER	Okunana kitap sayfası
Pazartesi	#### ### IIII
Salı	
Çarşamba	
Perşembe	
Cuma	

