


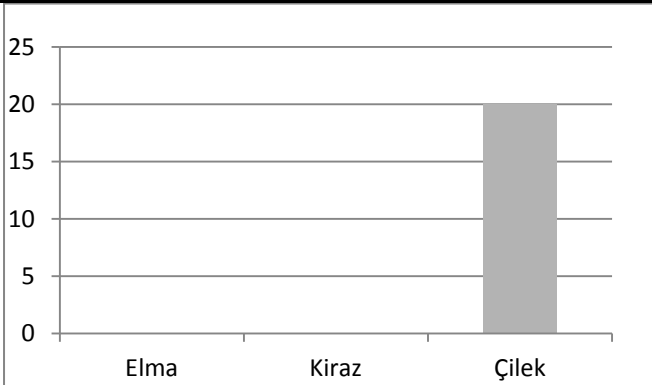
ADI SOYADI	11.2011
3.SINIF	GRAFİKLER-SIKLIK VE ÇETELE TABLOSU-2	MATEMATİK



3-E Sınıfında en çok sevilen meyveler yukarıda karışık olarak verilmiştir. Buna verilere göre sıklık tablosunu, çetele tablosunu ve grafiğini yapınız.

SIKLIK TABLOSU	
Meyveler	Öğrenci sayısı

ÇETELE TABLOSU	
Meyveler	Öğrenci sayısı



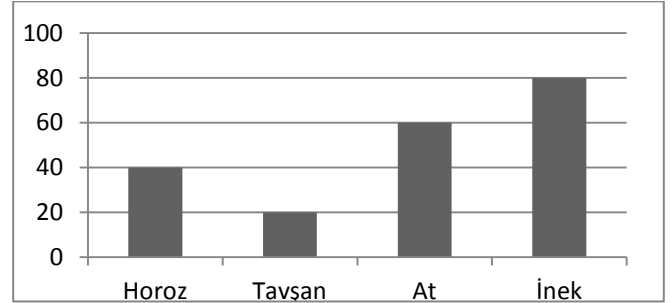
Sınıf kitaplığımızda 20 hikaye kitabı, 12 masal kitabı, 9 şiir kitabı bulunmaktadır.

Sınıf kitaplığımızın çetele tablosunu yapar mısınız?

ÇETELE TABLOSU	
Kitap türü	Sayısı



Çiftliğimizdeki hayvanların sayısını gösteren grafik aşağıda verilmiştir. Buna göre soruları cevaplayınız.



1 -Çiftlik toplam kaç hayvan vardır?

2- En fazla olan hayvanla, en az olan hayvanın farkı kaçtır?

3- Horoz sayısı, atların sayısından kaç eksiktir?