




ADI SOYADI		.....11.2011
3.SINIF	PROBLEM ÇÖZÜYORUM	MATEMATİK

1.  Karabaş bir çıkarma işleminde çıkanı unutuyor. Eksileni 500 ve farkı ise 125 olarak hatırlıyor. Karabaş'ın çıkarma işleminde çıkan kaçtır?

2.  Ebru bahçeye 285 gül ekmiştir. Rabia ise Ayşe'den 125 fazla gül ekmiştir. İkisi birlikte toplam kaç gül ekmiştir?

3.   $315 < K < 319$  Yandaki ifadeye göre K yerine yazılabilecek doğal sayıların toplamı kaçtır?

4. Benim, Ali'nin ve Ayşe'nin ağırlıkları toplamı 186'dır. Ben 87, Ali 66 kilo ise Ayşe kaç kilogramdır?

5. Bir kamyonu 129 kg elma, 227 kg portakal, 452 kg mandalina yükleniyor. Kamyondaki yük miktarı kaç kg'dır?

6. Üç toplananlı bir toplama işleminde toplam 267'dir. Toplananları onar sayı artırırsak toplam kaç olur?

7. Mahmut, 300 sayfalık kitabı 3 günde okuyup bitiriyor. 1. Gün 96 sayfa, 2. Gün 154 sayfa okuduğuna göre 3. gün kaç sayfa kitap okumuştur?

8.  $355 - 165 > A$  Yandaki ifadeye göre A yerine yazılabilecek en büyük sayı kaçtır?

9.

+	65	50	15
85	150	D	
96	E	.....	.....
135	200	185	F

Yukarıdaki tablodaki işleme göre  $D+E+F$  işleminin sonucu kaçtır?

10. Kırtasiyeden tanesi 45 Kr olan kalemlerden 9 tane aldım. Satıcıya 5 TL verdiğime göre kaç kuruş para üstü almalıyım?

11. Annemin cüzdanında 7 tane 50 TL, 4 tane 20 TL, 6 tane 5TL olduğuna göre annemin cüzdanında toplam kaç TL para vardır?