

## MATEMATİK DEĞERLENDİRME

1. Yandaki makas resmi aşağıdakilerden hangisine benzemektedir?

- A) Dik doğrulara
- B) Paralel doğrulara
- C) Kesişen doğrulara

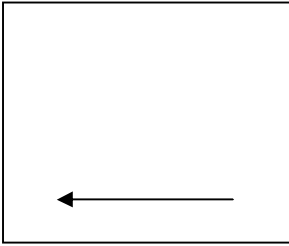


2.

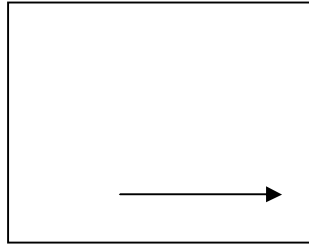


- A) 1
- B) 3
- C) 2

3. Aşağıdaki kutulara verilen ölçüde açılar çiziniz.

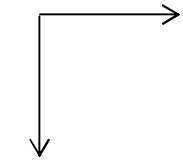


60 derece

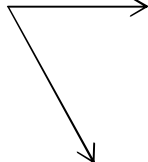


100 derece


4. Aşağıdaki açılar nasıl açılar olduklarını altına yazınız.



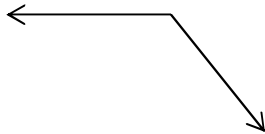
.....



.....




.....

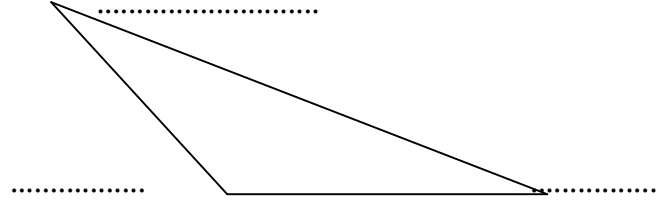


.....


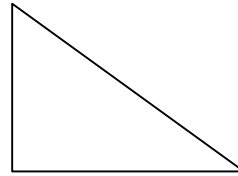
5. Verilen izometrik alana kısa kenarı 3 cm, uzun kenarı 5 cm olacak şekilde bir dikdörtgen çiziniz. Açılarını gösteriniz.



6. Aşağıdaki üçgendeki açılar nasıl açılar olduklarını yazınız.


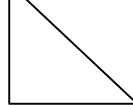
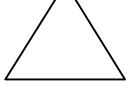


7. Aşağıda verilen noktalı yerleri doldurunuz.

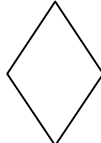
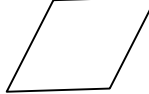



..... açısı vardır.      ..... açısı vardır.  
 ..... köşesi vardır.      ..... köşesi vardır.  
 ..... kenarı vardır.      ..... kenarı vardır.

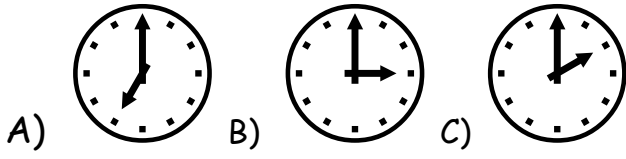
8. Bütün açıları dar açı olan düzlemsel şekil hangisidir?

- A) 
- B) 
- C) 

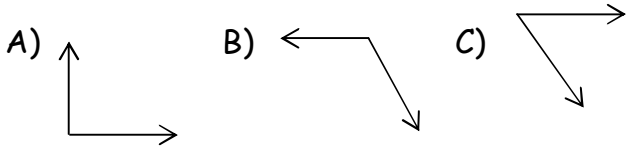
9. Aşağıdakilerden hangi düzlemsel şeklin bir tane geniş açısı vardır?

- A) 
- B) 
- C) 

10. Aşağıdaki saatlerden hangisinin akrep ve yelkovanı arasında dik açı oluşmuştur?



11. Geniş açı hangi seçenekte gösterilmiştir?



12. Hangi geometrik cismin 6 tane karesel yüzü vardır?

- A) dikdörtgenler prizması  
B) kare prizma  
C) küp


13. Hangi çocuğun söylediği doğru değildir?

- A) Elif: Nokta büyük harfle adlandırılır.  
B) Ece: Doğrular hiçbir zaman kesişmezler.  
C) Beril: Doğru parçasının iki ucu sınırlıdır.

14. Gökyüzüne atılan füze için hangisi söylenebilir?

- A) ışın B) doğru parçası C) doğru

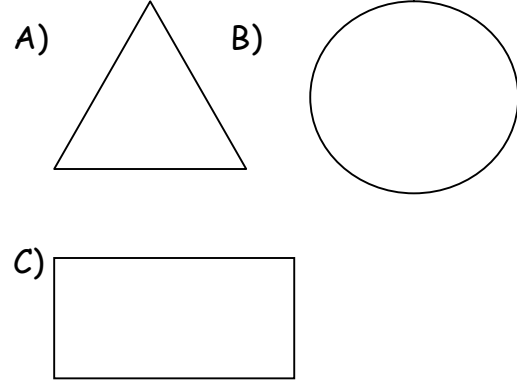
15. Aşağıdaki geometrik şekillerin isimleri altlarına yazılmıştır. Hangisi doğrudur?



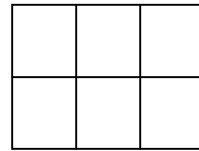
Üçgensel bölge daire karesel bölge

- A) Üçgensel bölge  
B) daire  
C) karesel bölge

16. Aşağıdaki düzlemsel bölgelerden hangisi üçgen prizmaya ait olamaz?



17. Şekilde kaç tane karesel bölge görüyorsunuz?

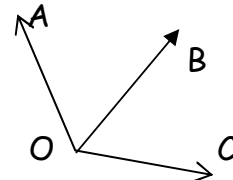


- A) 11  
B) 8  
C) 6

18. Üçgen prizmanın parçalarını defterine çizen Ali, aşağıdakilerden hangisini çizer?

- A) çember  
B) kare  
C) üçgen

19. Şekle göre hangi ifade yanlıştır?



- A) AOB noktaları birleşerek dar açı oluşmuştur.  
B) BOC noktaları birleşerek dar açı oluşmuştur.  
C) AOC noktaları birleşerek doğru açı oluşmuştur.

20. Aşağıdakilerden yüzleri en az olan hangisidir?

- A) küp B) üçgen prizma C) kare prizma