


Adı Soyadı :

KENDİMİ DEĞERLENDİRİYORUM

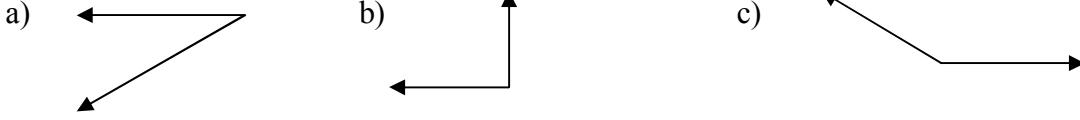
1. Aşağıdakilerden hangisi doğru parçasına örnektir?



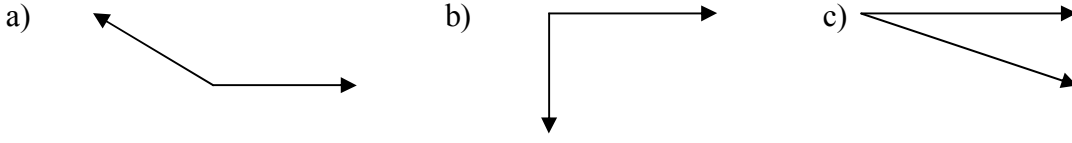
2. Aşağıdaki ifadelerden hangisi doğrudur?

- a) Doğruların bir ucu sınırlıdır.
b) Doğru parçalarının iki ucu da sınırlıdır.
c) Işınlr iki ucu sınırlı çizgilerdir.

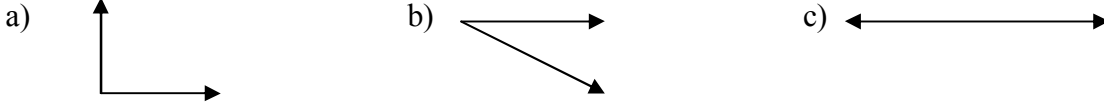
3. Aşağıdakilerden hangisi dik açıyı gösterir?



4. Aşağıdakilerden hangisi dar açıyı gösterir?



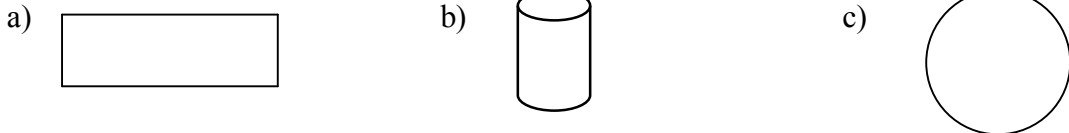
5. Aşağıdakilerden hangisi doğru açıyı gösterir?



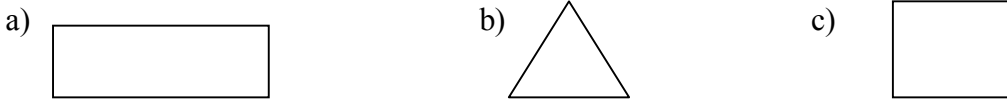
6. Aşağıdaki şekillerden hangisi dikdörtgendir?



7. Aşağıdaki şekillerden hangisi çemberdir?



8. Aşağıdaki şekillerden hangisi üç açılıdır?



9. Kare ile dikdörtgen arasındaki fark aşağıdaki seçeneklerin hangisinde doğru olarak belirtilmiştir?

- a) Karenin bütün kenarları, dikdörtgenin karşılıklı kenarları eşittir.
b) Karenin karşılıklı kenarları birbirine paralel, dikdörtgenin paralel değildir.
c) Karenin dört köşesi dört açısı vardır. Dikdörtgenin dört köşesi iki açısı vardır.

10. Yandaki şekilde kaç tane üçgen vardır?

- a) 4 b) 6 c) 8

