

# HAYAT BİLGİSİ VE MATEMATİK TEKRAR

Adı Soyadı:.....

1) Sağlıklı olmak için yapmamız gerekenlerden üç tanesini yazınız.

- 1-.....  
2-.....  
3-.....

2) Yandaki taşıtı kim kullanır?

- A. kaptan  
B. makinist  
C. pilot




3) Aşağıdakilerden hangisi hava taşıtı değildir?

- A.  B.  C. 

4) Aşağıdakilerden hangisi vücudumuzun bölümlerinden biri değildir?

- A. beyin B. kollar ve bacaklar  
C. gövde

5)  Ben giderim, o gider  
İçimde tık tık eder.

Yukarıdaki bilmece nin cevabı hangi organımız olabilir?

- A. mide B. kalp C. beyin

6) Tanıdığımız insanlarla karşılaştığımızda onlara neler söyleyebiliriz? Örnekler veriniz.




- .....  
.....  
.....  
.....

7) Karşıdan karşıya güvenli geçişlerde nereleri tercih etmeliyiz? (4 tane)

- .....  
.....  
.....  
.....

Veli:.....

1) Aşağıda verilen saatlerin okunuşunu yazar mısın?



2) Aşağıdaki sayılarda okla gösterilen rakamların basamak değerlerini yazar mısın?

36  
↓

70  
↓

65  
↓

80  
↓

3) Aşağıdaki çarpma işlemlerini tamamlayabilir misin?

\* 2 tane 3, ..... eder.

\* 7 tane 4, ..... eder.

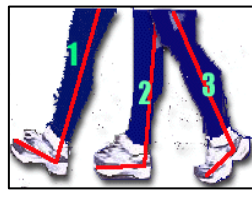
\* 6 tane 3, ..... eder.

\* 9 tane 5, ..... eder.

\* 5 tane 4, ..... eder.

\* 8 tane 3, ..... eder.

4) Aşağıdaki standart olmayan uzunluk ölçüsü birimleri ile ilgili resimleri inceleyiniz. Bulabildiniz mi, hangisi? Haydi yazın o zaman.



Öğretmen:.....