



ADI-SOYADI:

Deste ve Düzine / Ritmik Saymalar

1

2.SINIF
MATEMATİK

1) Aşağıdaki nesne gruplarından hangisi bir **deste**dir?



2) Beyza ile annesi arasında şöyle bir konuşma geçer:



Anneçğim bana 2 deste kalem alırmısın?

Olur kızım, alırım.




Annesi çarşıdan döndüğünde:



Kızım sana iki düzine kalem aldım.

Bana istediğimden fazla kalem almışsın.



Beyza'nın konuşmasında noktalı yere aşağıdakilerden hangisi gelmelidir?

A) 2 B) 4 C) 8

3) Aşağıdaki öğrencilerden hangisi **yanlış** anlatımda bulunmuştur?

A) 1 deste çiçek 10 tanedir.

B) 1 düzine kalemin 2 fazlası 14 kalem eder.

C) 8 çiçeği bir desteye tamamlamak için 4 çiçek ekleriz.

4) Ali'nin oyuncağını garaja park etmesi için gideceği yoldaki sayıların toplamının **1 düzineye** eşit olması gerekiyor.



1	2	3	1	3	K
1	2	3	2	4	L
1	3	4	3	5	M

Görselde verilenlere göre Ali, oyuncağını hangi garaja park etmelidir?

A) K B) L C) M

5) Annesi Büşra'dan şunu ister:

"Büşra, 1 düzineden 6 fazla yumurta alırmısın?"



Buna göre Büşra **kaç tane yumurta** almalıdır?

A) 16 B) 12 C) 18

6) Emre, sana 1 düzineden 6 eksik şeker vereceğim.



Öğretmeninden alacağı şeker sayısını hesaplamaya çalışan Emre'nin, yaptığı işlemlerden hangisi **doğrudur**?

A) $12 + 6 = 18$ B) $10 - 6 = 4$
C) $12 - 6 = 6$



7) Yukarıdaki ağaçların sayısı 1 desteden kaç **eksiktir**?

A) 2 B) 4 C) 6

8) Hangi seçenekteki öğrenci **ikişer** ritmik sayma yapmıştır?

A) 4 - 8 - 12 - 16 - 18

B) 3 - 5 - 7 - 9 - 11

C) 2 - 6 - 10 - 14 - 18



9)

2	4	6	8	10
---	---	---	---	----

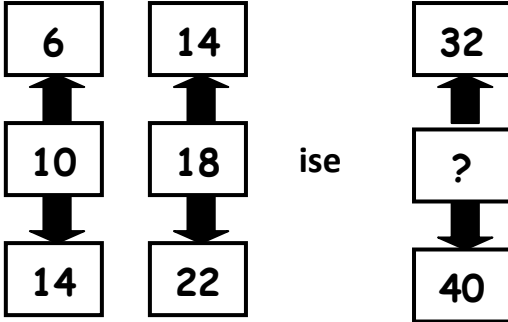
Yukarıdaki sayı dizisi ile ilgili verilen bilgilerden hangisi **yanlıştır**?

A) Sayılar 2'şer artmıştır.

B) Her sayı kendinden önceki sayıdan 2 fazladır.

C) Tam ortada yazılan sayı baştaki sayıdan 6 fazladır.

10)



Yukarıdaki şemada " ? " yerine hangisi gelmelidir?

A) 28

B) 36

C) 44


11)



14' ten başlayıp 22' ye kadar 2'şer sayıyorum.

Ayla

8' den başlayıp 24' e kadar 4' er sayıyorum.



Özge

Ayla ile Özge yaptıkları ritmik saymada aşağıdaki sayılardan hangilerini **ortak** söyler?

A) 18 - 20

B) 16 - 20

C) 14 - 18

12)

Öğretmen çocuklardan ellerindeki kartlardaki sayılara 5 ekleyip, 1 çıkararak sayı dizisi oluşturmalarını istedi.



Aslı



Emel



Kumsal

Öğretmenin söylediğini hangi öğrenci **yanlış** yapmıştır?

A) **Aslı**: 8 - 13 - 12 - 17 - 16

B) **Emel**: 7 - 12 - 11 - 16 - 15

C) **Kumsal**: 5 - 10 - 9 - 16 - 14

13)



17' den geriye doğru birer sayıyorum.



20' den geriye doğru ikişer sayıyorum.

Sayma yaparken her iki öğrencinin de **ortak** söylediği sayılar hangileridir?

A) 16 - 15 - 14 - 13 - 12 - 11 - 10

B) 2 - 4 - 6 - 8 - 10 - 12 - 14 - 16

C) 3 - 6 - 9 - 12 - 15 - 18

14)



Üçer ritmik sayma yaparken **4. saymada** 15 sayısını söyledim.

Hakan, saymaya hangi sayıdan **başlamıştır**?

A) 3

B) 6

C) 9

ŞİMDİ KONTROL ZAMANI...