

MATEMATİK (TABLO OKUMA)

1. Okullar, Eylül ayının 19'unda açıldı. Buna göre okullar hangi gün açılmıştır?

EYLÜL 2011						
Pazartesi	Salı	Çarşamba	Perşembe	Cuma	Cumartesi	Pazar
			1	2	3	4
5	6	7	8	9	10	11
12	13	14	15	16	17	18
19	20	21	22	23	24	25
26	27	28	29	30		

A) Pazartesi B) Salı C) Çarşamba

2. Salı günleri kursa giden bir öğrenci, eylül ayında kaç gün kursa gitmiştir?

EYLÜL 2011						
Pazartesi	Salı	Çarşamba	Perşembe	Cuma	Cumartesi	Pazar
			1	2	3	4
5	6	7	8	9	10	11
12	13	14	15	16	17	18
19	20	21	22	23	24	25
26	27	28	29	30		

A) 2 B) 3 C) 4

3. Pazar günleri tatil yapan babam, eylül ayında seçeneklerdeki tarihlerden hangisinde tatil yapmamıştır?

EYLÜL 2011						
Pazartesi	Salı	Çarşamba	Perşembe	Cuma	Cumartesi	Pazar
			1	2	3	4
5	6	7	8	9	10	11
12	13	14	15	16	17	18
19	20	21	22	23	24	25
26	27	28	29	30		

A) 10
B) 18
C) 25

4. Aşağıdaki tabloya göre börek ve ayran getirilen gün hangisidir?

Beslenme Tablosu	
Günler	Yiyecekler
Pazartesi	Süt - peynir
Salı	Domates - yumurta
Çarşamba	Meyve suyu - poğaç
Perşembe	Börek - ayran
Cuma	Süt - yumurta

A) Pazartesi
B) Salı
C) Perşembe

5. Tabloya göre haftada kaç gün süt içilecektir?

Beslenme Tablosu	
Günler	Yiyecekler
Pazartesi	Süt - peynir
Salı	Domates - yumurta
Çarşamba	Meyve suyu - poğaç
Perşembe	Börek - ayran
Cuma	Süt - yumurta

A) 4
B) 3
C) 2

6) Tabloya göre yumurta hangi günler yenilecektir?

Beslenme Tablosu	
Günler	Yiyecekler
Pazartesi	Süt - peynir.
Salı	Domates - yumurta.
Çarşamba	Meyve suyu - poğaçı.
Perşembe	Börek - ayran.
Cuma	Süt - yumurta.




A) Salı-perşembe B) Salı-cuma C) Salı- çarşamba

7) Aşağıdaki tabloya göre en çok satılan meyve hangisidir?

Meyve Satışı	
Meyve	Satış Miktarı
	
	
	




A) Armut B) Elma C) Çilek

8) Aşağıdaki tabloda bir vazodaki çiçek çeşitleri ve sayıları gösterilmiştir. Tabloya göre vazoda en çok hangi çiçek çeşidinden vardır?

Çiçek Çeşitleri	Çiçek Sayısı
Gül	
Papatya	
Lale	

A) Gül B) Papatya C) Lale

9) Aşağıdaki tabloda bir vazodaki çiçek çeşitleri ve sayıları gösterilmiştir. Tabloya göre vazoda en az hangi çiçek çeşidinden vardır?

Çiçek Çeşitleri	Çiçek Sayısı
Gül	
Papatya	
Lale	

A) Gül B) Papatya C) Lale

10) Aşağıdaki tabloya göre en çok satılan dondurma çeşidi hangisidir?

Dondurma Çeşitleri	Dondurma Sayısı
Limonlu	
Çikolatalı	
Çilekli	

A) Limonlu B) Çikolatalı C) Çilekli

11) Aşağıdaki tabloya göre en az satılan dondurma çeşidi hangisidir?

Dondurma Çeşitleri	Dondurma Sayısı
Limonlu	
Çikolatalı	
Çilekli	

A) Limonlu B) Çikolatalı C) Çilekli