






VERİ TOPLAMA

1.Etkinlik: Tabloyu inceleyelim. Soruları tabloya göre cevaplayalım.

Bahçedeki Ağaçlar Tablosu			
Ağaçlar	 elma	 armut	 kayısı
Sayısı	12	4	7

Bahçede tane  var.

Bahçede tane  var.

Bahçede tane  var.

Bahçede en fazla hangi ağaç vardır?




Bahçede en az hangi ağaç vardır?

Bahçede toplam kaç ağaç vardır?

Elma ağaçları kayısı ağaçlarından kaç tane fazladır?



2.Etkinlik: Tabloyu inceleyelim. Soruları tabloya göre cevaplayalım.

Otobüsteki Yolcu Tablosu			
Yolcular	 bayan	 bay	 çocuk
Sayısı	7	13	3

Otobüste tane  var.

Otobüste tane  var.

Otobüste tane  var.

Otobüste en fazla hangi yolcu var?




Otobüste en az hangi yolcu var?

Otobüste toplam kaç yolcu var?

Bayanlar çocuklardan kaç tane fazladır?



3.Etkinlik: Tabloyu inceleyelim. Soruları tabloya göre cevaplayalım. (Önce boncukları boyayınız.)

Kutudaki Boncuk Tablosu			
Boncuklar	 sarı	 kırmızı	 mavi
Sayısı	3	5	12

Kutuda tane  var.

Kutuda tane  var.

Kutuda tane  var.

Kutuda en fazla hangi boncuk var?

Kutuda en az hangi boncuk var?

Kutuda toplam kaç kitap var?

Mavi boncuklar kırmızı boncuklardan kaç fazladır?

