



SIVILARI ÖLÇME

☞ Ayran, su, çorba, gazoz, çay, kahve gibi maddelere **sıvı maddeler** diyoruz.

1-Aşağıdaki ölçme araçlarından hangisi sıvı ölçme aracıdır?



2-Aşağıdakilerden hangisi daha çok sıvı alır?



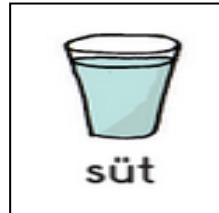
3-Yandaki su kovasını aşağıdakilerden hangisiyle daha kısa sürede doldurabiliriz?



4-Aşağıdakilerin hangisinin içerisinde sıvı vardır?



un



süt

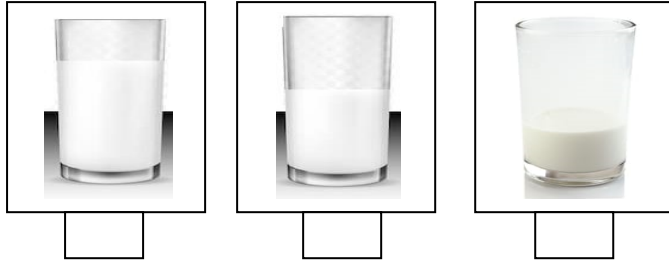


kum






5-Hangi bardakta, yarım bardak st vardır?



6-Ařađıda yer alan sıvı dolu kapları en az olandan ,en çok olana dođru numaralandırınız.



7-



Yukarıda verilenlerden kaç tanesi bardakla ölçülebilir?

A) 1

B) 2

C) 3